

- I. En observant la photo ci-dessus, reproduis la perspective à un point de fuite (crayon à mine et règle) dans l'espace ci-après. Relie avec des flèches, chacun des termes à retenir aux composantes de tes dessins. ( 4 pts/20)



lignes obliques

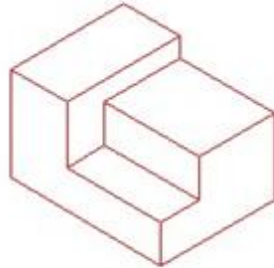
ligne d'horizon

point de fuite

Allées plantées d'arbres

II. Reproduis le géométral de chacune des figures ci-après : (12 pts/20)

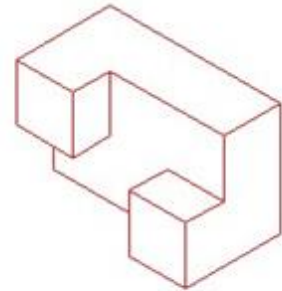
Vue de dessus



Vue latérale droite

Vue de face

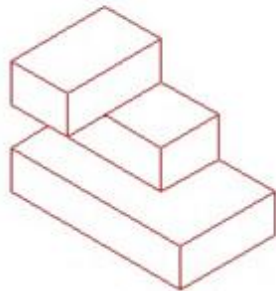
Vue de dessus



Vue latérale droite

Vue de face

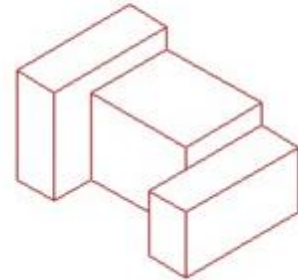
Vue de dessus



Vue latérale droite

Vue de face

Vue de dessus



Vue latérale droite

Vue de face

III. Reproduis la partie manquante du pavage suivant et colorie-le de manière systématique et harmonieuse : (4 pts/20)

