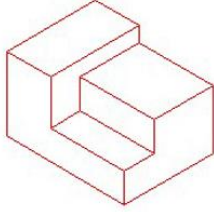
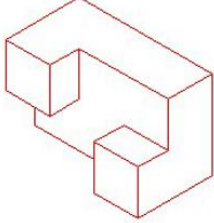
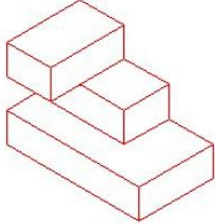
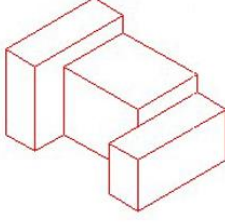



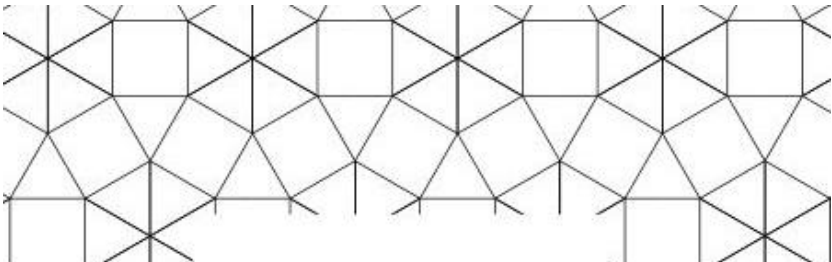
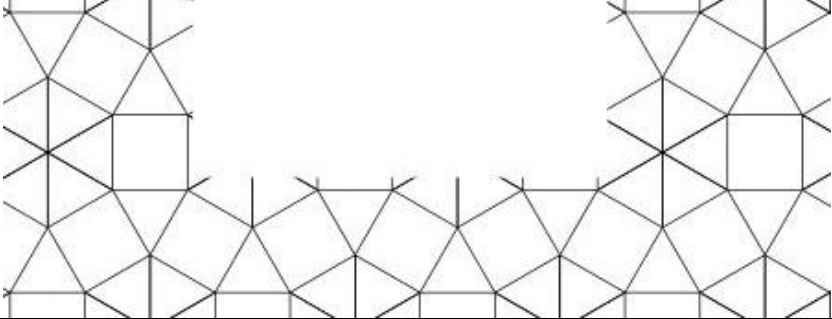
Epreuve de

Thème		Tracés et croquis
Observation et imagination	5	
<p>Voici un tableau de nature morte de l'artiste Jean Siméon Chardin.</p> <p>Imaginez les éléments hors champs, que l'artiste n'aurait pas inclus dans son tableau, puis dessinez-les pour compléter l'œuvre.</p> <p>Vous pouvez imaginer des éléments dans le même plan, ou en arrière-plan, ou les deux.</p> <ol style="list-style-type: none">1. Faites le contour des éléments rajoutés au crayon2. Puis coloriez l'ensemble à l'aide des crayons de couleurs.	<p>3</p> <p>2</p>	

Epreuve de

Notions spatiales	8				
<p>Complétez les vues manquantes</p> <p>Tracez en trait continu fort de couleur rouge les arêtes vues au premier plan</p> <p>En trait continu fin de couleur bleue les arêtes vues en arrière-plan</p> <p>Et en trait discontinu vert les arêtes cachées</p>		<p>Vue de dessus</p>  <p>Vue de face</p> <p>Vue latérale droite</p> <p>Vue latérale gauche</p>	<p>Vue de dessus</p>  <p>Vue de face</p> <p>Vue latérale droite</p> <p>Vue latérale gauche</p>		
<p>Vue de dessus</p>	0,5	<p>Vue de dessus</p>	<p>Vue de dessus</p>		
<p>Vue de face</p>	0,5	 <p>Vue de face</p>	 <p>Vue de face</p>		
<p>Vue latérale gauche</p>	0,5	<p>Vue latérale droite</p>	<p>Vue latérale droite</p>		
<p>Vue latérale droite</p>	0,5	<p>Vue latérale gauche</p>	<p>Vue latérale gauche</p>		

Epreuve de

Tracé géométrique	7		
<p>Trouvez l'élément de base du motif qui a permis la construction de ce pavage et repasse dessus en rouge</p>	2		
<p>Terminez le pavage en traçant les traits manquants</p>	3		
<p>Puis coloriez le motif entier obtenu dans des couleurs harmonieuses</p>	2		
Total	20		

Nom et prénom
Numéro du candidat
Epreuve de

Fondation de la Mosquée Hassan II de
Casablanca
Académie des Arts Traditionnels

Epreuve de